



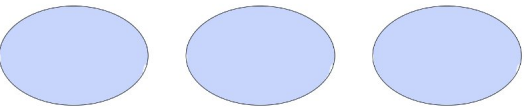


Hauska Yhteenlasku

Löydä puuttuva luku yhteenlaskun täydentämiseksi!



1.  +  = 

2.  +  = 

3.  +  = 

4.  +  = 

5.  +  = 

6.  +  = 