



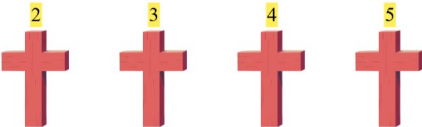


Hauska Yhteenlasku


Löydä puuttuva luku yhteenlaskun täydentämiseksi!

1.  + 1 = 2 1 + 1 = 2

2.  +  = 5 2 + 3 = 5

3.  +  = 9 5 + 4 = 9

4.  +  = 10 5 + 5 = 10

5.  +  = 8 4 + 4 = 8

6.  +  = 9 4 + 5 = 9