








Hauska Yhteenlasku

Löydä puuttuva luku yhteenlaskun täydentämiseksi!

1.  +  _____ =  2

2.   +  _____ =  5

3.      +  _____ =  9

4.      +  _____ =  10

5.     +  _____ =  8

6.     +  _____ =  9