




Hauska Yhteenlasku

Löydä puuttuva luku yhteenlaskun täydentämiseksi!

1.  $+$ 1 $=$ 3 $2 + 1 = 3$

2.  $+$ 3 $=$ 4 $1 + 3 = 4$

3.  $+$ 3 $=$ 5 $2 + 3 = 5$

4.  $+$ 3 $=$ 8 $5 + 3 = 8$

5.  $+$ 1 $=$ 5 $4 + 1 = 5$

6.  $+$ 4 $=$ 8 $4 + 4 = 8$