




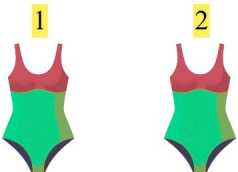
# Hauska Yhteenlasku

Löydä puuttuva luku yhteenlaskun täydentämiseksi!

1.  + 1 = 3 2 + 1 = 3

2.  + 1 = 6 5 + 1 = 6

3.  + 5 = 6 1 + 5 = 6

4.  + 5 = 7 2 + 5 = 7

5.  + 2 = 6 4 + 2 = 6

6.  + 4 = 7 3 + 4 = 7