

Hauska Yhteenlasku

Löydä puuttuva luku yhteenlaskun täydentämiseksi!




1.  +  _____  3

2.  +  _____  6

3.  +  _____  6

4.  +  _____  7

5.  +  _____  6

6.  +  _____  7