






# Hauska Yhteenlasku

Löydä puuttuva luku yhteenlaskun täydentämiseksi!

1.  +  \_\_\_\_\_ =  3

2.   +  \_\_\_\_\_ =  3

3.     +  \_\_\_\_\_ =  8

4.    +  \_\_\_\_\_ =  4

5.  +  \_\_\_\_\_ =  5

6.     +  \_\_\_\_\_ =  5