




# Hauska Yhteenlasku

Löydä puuttuva luku yhteenlaskun täydentämiseksi!

1.  + 5 = 6 1 + 5 = 6

2.  + 4 = 5 1 + 4 = 5

3.  + 3 = 6 3 + 3 = 6

4.  + 3 = 5 2 + 3 = 5

5.  + 4 = 9 5 + 4 = 9

6.  + 3 = 8 5 + 3 = 8