






# Hauska Yhteenlasku

Löydä puuttuva luku yhteenlaskun täydentämiseksi!

1.  +  \_\_\_\_\_ =  6

2.  +  \_\_\_\_\_ =  5

3.    +  \_\_\_\_\_ =  6

4.   +  \_\_\_\_\_ =  5

5.      +  \_\_\_\_\_ =  9

6.      +  \_\_\_\_\_ =  8