







Hauska Yhteenlasku

Löydä puuttuva luku yhteenlaskun täydentämiseksi!

1.  +  _____  6

2.     +  _____  6

3.    +  _____  6

4.     +  _____  8

5.  +  _____  3

6.   +  _____  3