



# Hauska Yhteenlasku

Löydä puuttuva luku yhteenlaskun täydentämiseksi!


1.  + 1 = 2 1 + 1 = 2

2.   + 3 = 6 3 + 3 = 6

3.  + 4 = 5 1 + 4 = 5

4.  + 1 = 5 4 + 1 = 5

5.  + 1 = 3 2 + 1 = 3

6.  + 4 = 6 2 + 4 = 6