




Hauska Yhteenlasku

Löydä puuttuva luku yhteenlaskun täydentämiseksi!

1.  +  _____ =  2

2.    +  _____ =  6

3.  +  _____ =  5

4.     +  _____ =  5

5.   +  _____ =  3

6.   +  _____ =  6