



Hauska Yhteenlasku


Löydä puuttuva luku yhteenlaskun täydentämiseksi!


1.  + 4 = 5 1 + 4 = 5

2.  + 4 = 9 5 + 4 = 9

3.  + 1 = 5 4 + 1 = 5

4.  + 5 = 7 2 + 5 = 7

5.  + 1 = 3 2 + 1 = 3

6.  + 2 = 6 4 + 2 = 6