





# Hauska Yhteenlasku





Laske kuvat, lisää luku ja kirjoita vastauksesi!






1.   $+$  **3**  $1 + 3 = 4$

2.    $+$  **2**  $3 + 2 = 5$

3.    $+$  **1**  $2 + 1 = 3$

4.    $+$  **4**  $2 + 4 = 6$

5.      $+$  **2**  $4 + 2 = 6$

6.       $+$  **2**  $5 + 2 = 7$