

















Hauska Yhteenlasku

Laske kuvat, lisää luku ja kirjoita vastauksesi!

1.  +  $1 + 1 = 2$

2.     +  $4 + 4 = 8$

3.    +  $3 + 1 = 4$

4.     +  $4 + 2 = 6$

5.     +  $4 + 3 = 7$

6.    +  $3 + 5 = 8$