







Hauska Yhteenlasku

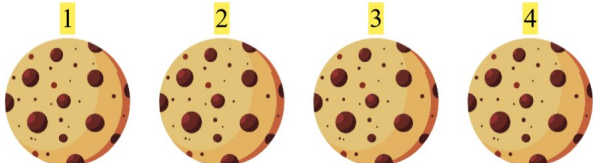

Laske kuvat, lisää luku ja kirjoita vastauksesi!

1.  +  $3 + 1 = 4$

2.  +  $3 + 3 = 6$

3.  +  $4 + 5 = 9$

4.  +  $2 + 4 = 6$

5.  +  $4 + 4 = 8$

6.  +  $5 + 3 = 8$