




# Hauska Yhteenlasku






Harjoittele yhteenlaskua sekatyypisillä tehtävillä!

1.   $+$  5  $=$  6  $1 + 5 = 6$

2.    $+$  1  $=$  3  $2 + 1 = 3$

3.      $+$  3  $4 + 3 = 7$

4.     $+$  5  $=$  8  $3 + 5 = 8$

5.       $+$  3  $=$  8  $5 + 3 = 8$

6.      $+$  4  $4 + 4 = 8$