










# Hauska Yhteenlasku




Harjoittele yhteenlaskua sekatyypisillä tehtävillä!

1.   + 1 = \_\_\_\_\_

2.      + \_\_\_\_\_ = 8

3.     + 3 = \_\_\_\_\_

4.    + \_\_\_\_\_ = 7

5.    + 2 = \_\_\_\_\_

6.  + \_\_\_\_\_ = 6