




















Chaque image compte double

Prénom: _____ Date: _____

★ Chaque image vaut 2 ! Écris le vrai compte de chaque rangée.

				
				
				
				
	= 2			

	=	<input type="text"/>
	=	<input type="text"/>
	=	<input type="text"/>
	=	<input type="text"/>