




# Chaque image vaut 5


Prénom: \_\_\_\_\_ Date: \_\_\_\_\_


★ Chaque image vaut 5 ! Écris le vrai compte de chaque rangée.


Row 1:  \_\_\_\_\_


Row 2:  \_\_\_\_\_


Row 3:  \_\_\_\_\_


Row 4:  \_\_\_\_\_

 = 5

 =

 =

 =

 =