





# Chaque image vaut 5

Prénom: \_\_\_\_\_ Date: \_\_\_\_\_

★ Chaque image vaut 5 ! Écris le vrai compte de chaque rangée.

		_____
		_____
		_____
		_____
	<b>= 5</b>	

	=	<input type="text"/>
	=	<input type="text"/>
	=	<input type="text"/>
	=	<input type="text"/>