




Je vois, je vois

Mets un carré autour de tous les Bisons. Entoure toutes les Girafes. Compte toutes les Hyènes. Barre tous les Phoques.

 = 6  = 4  = 5  = 3