




















Ogni immagine vale due

Nome: _____ Data: _____

★ Ogni immagine vale 2! Scrivi il conteggio reale di ogni fila.

				
				
				
				
	= 2			

	=	<input type="text"/>
	=	<input type="text"/>
	=	<input type="text"/>
	=	<input type="text"/>