










Ogni immagine vale 5

Nome: _____ Data: _____

★ Ogni immagine vale 5! Scrivi il conteggio reale di ogni fila.

	_____
	_____
	_____
	_____
 = 5	

	=	<input type="text"/>
	=	<input type="text"/>
	=	<input type="text"/>
	=	<input type="text"/>