





Ogni immagine vale due

Nome: _____ Data: _____

★ Ogni immagine vale 2! Scrivi il conteggio reale di ogni fila.

	    
	     
	  
	 
 = 2	

	=	<input type="text"/>
	=	<input type="text"/>
	=	<input type="text"/>
	=	<input type="text"/>