






# Conta a gruppi

Nome: \_\_\_\_\_ Data: \_\_\_\_\_

★ Ogni riquadro ha la stessa quantità. Conta a salti e scrivi il totale.

				
<b>5</b>	<input type="text"/>	<input type="text"/>	<input type="text"/>	<input type="text"/>