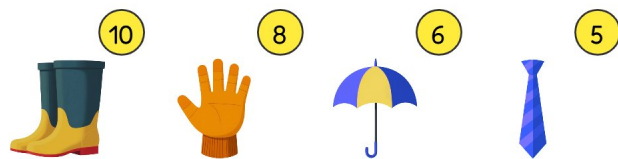






# Geheime Code Optellen



Kraak de code! Vind het getal van elk symbool!





1.   $+$    $= 18$

2.   $+$    $= 11$

3.   $+$    $= 16$

4.   $+$    $= 13$

5.   $+$    $= 13$