


Maak een tiental

Naam: _____ Datum: _____




Omcirkel 10 eenheden om een tiental te bundelen. Schrijf hoeveel tientallen en eenheden.

1




$$\square \times 10 + \square$$

2



$$\square \times 10 + \square$$

3



$$\square \times 10 + \square$$

4



$$\square \times 10 + \square$$