





# Elk plaatje is 5

Naam: \_\_\_\_\_ Datum: \_\_\_\_\_

★ Elk plaatje staat voor 5! Schrijf het echte aantal voor elke rij.

		_____
		_____
		_____
		_____
	= 5	

	=	<input type="text"/>
	=	<input type="text"/>
	=	<input type="text"/>
	=	<input type="text"/>