






Tel in groepen

Naam: _____ Datum: _____

★ Elk vak heeft evenveel. Tel met sprongen en schrijf het lopende totaal op.

				
5	<input type="text"/>	<input type="text"/>	<input type="text"/>	<input type="text"/>