






Tel in groepen

Naam: _____ Datum: _____

★ Elk vak heeft evenveel. Tel met sprongen en schrijf het lopende totaal op.

				
<input type="text" value="5"/>	<input type="text"/>	<input type="text"/>	<input type="text"/>	<input type="text"/>