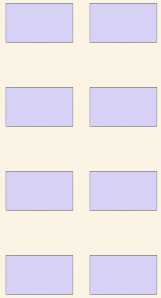


Tel het rooster

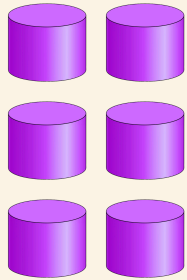
Naam: _____ Datum: _____

★ Tel de rijen plaatjes. Schrijf op hoeveel het er in totaal zijn.


1



2



3



4

