







# Optellen is Leuk






Tel de afbeeldingen, tel het getal erbij op en schrijf je antwoord!

1.  <sup>1</sup> +  4 = 5

2.  <sup>1</sup>  <sup>2</sup> +  4 = 6

3.  <sup>1</sup>  <sup>2</sup> +  1 = 3

4.  <sup>1</sup>  <sup>2</sup>  <sup>3</sup>  <sup>4</sup>  <sup>5</sup> +  1 = 6

5.  <sup>1</sup>  <sup>2</sup>  <sup>3</sup>  <sup>4</sup> +  5 = 9

6.  <sup>1</sup>  <sup>2</sup>  <sup>3</sup> +  3 = 6