

# Schattenjacht

Volg de aanwijzingen en vind de schat!


























Begin bij B5.

Ga naar het westen 2 vakken.

Ga naar het zuiden 2 vakken.

Ga naar het oosten 1 vak.

Ga naar het westen 2 vakken Waar is de schat?

|   | 1   | 2   | 3   | 4  | 5   |
|---|---|---|---|--|---|
| A |   |   |   |  |   |
| B |  |  |  |  |  |
| C |  |  |  |  |  |
| D |  |  |  |  |  |
| E |  |  |  |  |  |