



# Gøy Addisjon




Legg sammen tallene og skriv svarene dine!

1.   $+$    $1 + 1 = 2$

2.     $+$    $3 + 1 = 4$

3.       $+$    $5 + 1 = 6$

4.       $+$        $5 + 5 = 10$

5.    $+$    $2 + 1 = 3$

6.    $+$     $2 + 2 = 4$