

# Gøy Addisjon



Legg sammen tallene og skriv svarene dine!


1.  +  = \_\_\_\_\_

2.  +  = \_\_\_\_\_

3.  +  = \_\_\_\_\_

4.  +  = \_\_\_\_\_

5.  +  = \_\_\_\_\_

6.  +  = \_\_\_\_\_