





Gøy Addisjon

Legg sammen tallene og skriv svarene dine!

1.  +  $4 + 4 = 8$

2.  +  $4 + 3 = 7$

3.  +  $4 + 1 = 5$

4.  +  $1 + 2 = 3$

5.  +  $3 + 1 = 4$

6.  +  $3 + 4 = 7$