




# Gøy Addisjon

Tell bildene, legg til tallet og skriv svaret ditt!

1.  + 4  $5 + 4 = 9$

2.  + 4  $3 + 4 = 7$

3.  + 1  $3 + 1 = 4$

4.  + 2  $5 + 2 = 7$

5.  + 3  $2 + 3 = 5$

6.  + 5  $1 + 5 = 6$