



# Gøy Addisjon

Tell bildene, legg til tallet og skriv svaret ditt!


1.  + 4  $2 + 4 = 6$

2.  + 5  $3 + 5 = 8$

3.  + 5  $2 + 5 = 7$

4.  + 3  $3 + 3 = 6$

5.  + 3  $2 + 3 = 5$

6.  + 4  $3 + 4 = 7$