




Gøy Addisjon

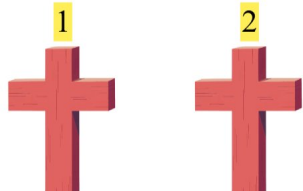
Tell bildene, legg til tallet og skriv svaret ditt!

1.  + 4 $5 + 4 = 9$

2.  + 5 $1 + 5 = 6$

3.  + 2 $3 + 2 = 5$

4.  + 1 $3 + 1 = 4$

5.  + 1 $2 + 1 = 3$

6.  + 2 $4 + 2 = 6$