



Gøy Addisjon


Tell bildene, legg til tallet og skriv svaret ditt!

1.  + 1 = _____

2.  + 3 = _____

3.  + 2 = _____

4.  + 5 = _____

5.  + 3 = _____

6.  + 2 = _____