






Gøy Addisjon


Finn det manglende tallet for å fullføre addisjonen!

1.  $+$ $4 = 5$ $1 + 4 = 5$

2.   $+$ $3 = 5$ $2 + 3 = 5$

3.   $+$ $2 = 4$ $2 + 2 = 4$

4.  $+$ $5 = 6$ $1 + 5 = 6$

5.  $+$ $1 = 2$ $1 + 1 = 2$

6.     $+$ $4 = 8$ $4 + 4 = 8$