






Gøy Addisjon

Finn det manglende tallet for å fullføre addisjonen!

1.  +  _____ =  5

2.   +  _____ =  7

3.  +  _____ =  3

4.    +  _____ =  8

5.  +  _____ =  4

6.   +  _____ =  4