


Gøy Addisjon


Finn det manglende tallet for å fullføre addisjonen!


1.  + 3 = 6 3 + 3 = 6

2.  + 3 = 7 4 + 3 = 7

3.  + 5 = 10 5 + 5 = 10

4.  + 3 = 5 2 + 3 = 5

5.  + 4 = 5 1 + 4 = 5

6.  + 2 = 4 2 + 2 = 4