

# Gøy Addisjon




Finn det manglende tallet for å fullføre addisjonen!

1.  +  \_\_\_\_\_ =  5

2.     +  \_\_\_\_\_ =  6

3.   +  \_\_\_\_\_ =  7

4.     +  \_\_\_\_\_ =  9

5.    +  \_\_\_\_\_ =  4

6.   +  \_\_\_\_\_ =  4