



Gøy Addisjon

Finn det manglende tallet for å fullføre addisjonen!


1.  + 5 = 7 2 + 5 = 7

2.  + 3 = 7 4 + 3 = 7

3.  + 4 = 6 2 + 4 = 6

4.  + 3 = 8 5 + 3 = 8

5.  + 4 = 8 4 + 4 = 8

6.  + 2 = 7 5 + 2 = 7