

Gøy Addisjon





Finn det manglende tallet for å fullføre addisjonen!

1.   +  _____  7

2.     +  _____  7

3.   +  _____  6

4.      +  _____  8

5.     +  _____  8

6.      +  _____  7