



Gøy Addisjon

Finn det manglende tallet for å fullføre addisjonen!


1.  $+$ $4 = 5$ $1 + 4 = 5$

2.  $+$ $1 = 6$ $5 + 1 = 6$

3.  $+$ $1 = 4$ $3 + 1 = 4$

4.  $+$ $2 = 3$ $1 + 2 = 3$

5.  $+$ $4 = 9$ $5 + 4 = 9$

6.  $+$ $3 = 4$ $1 + 3 = 4$