




# Gøy Addisjon

Finn det manglende tallet for å fullføre addisjonen!

1.  +  \_\_\_\_\_ =  5

2.      + \_\_\_\_\_ = 6

3.    + \_\_\_\_\_ = 4

4.  + \_\_\_\_\_ = 3

5.      + \_\_\_\_\_ = 9

6.  + \_\_\_\_\_ = 4