




Gøy Addisjon

Finn det manglende tallet for å fullføre addisjonen!

1.  + 2 = 4 2 + 2 = 4

2.  + 1 = 6 5 + 1 = 6

3.  + 3 = 6 3 + 3 = 6

4.  + 2 = 3 1 + 2 = 3

5.  + 2 = 5 3 + 2 = 5

6.  + 3 = 8 5 + 3 = 8